

**PETUNJUK KHUSUS**

**Pilihlah salah satu jawaban yang paling tepat, dengan memberi tanda silang (X) pada huruf a, b, c, atau d pada lembar jawaban yang disediakan!**

Contoh:

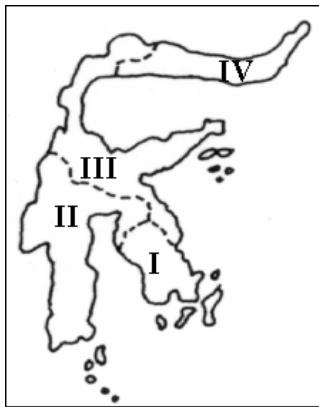
Batas sebelah selatan provinsi Nusa Tenggara Barat adalah ....

- a. Samudera Hindia
- b. Selat Lombok
- c. Selat Alas
- d. Laut Bali

Jawaban :     a     b     c     d

---

1. Provinsi Sulawesi Selatan pada peta di bawah ini ditunjukkan oleh angka ....



- a. I
- b. II
- c. III
- d. IV

2. Sriwijaya dikenal sebagai kerajaan maritim karena memiliki ....


- a. daerah jajahan yang luas
- b. angkatan darat yang kuat
- c. armada laut yang besar
- d. hasil pertanian yang berlimpah

3. Kota di Indonesia yang dilalui garis khatulistiwa adalah ....

- a. Banjarmasin
- b. Pontianak
- c. Balikpapan
- d. Palangkaraya

4. Peninggalan sejarah dari kebudayaan Hindu di Jawa Tengah adalah ....

- a. Candi Borobudur
- b. Candi Prambanan
- c. Candi Mendut
- d. Candi Pawon

5. Kerajaan Islam pertama di pulau Jawa adalah ....
    - a. Banten
    - b. Cirebon
    - c. Demak
    - d. Pajang
  
  6. Tujuan bangsa Eropa datang ke Indonesia pada awalnya adalah untuk ....
    - a. bertualang
    - b. menjajah
    - c. berdagang
    - d. persahabatan
  
  7. Badan usaha yang memberikan pinjaman kepada petani untuk mengembangkan usahanya yaitu ....
    - a. Koperasi Unit Desa
    - b. Bank Pembangunan Daerah
    - c. Bank Central Asia
    - d. Bank Ekspor Impor
  
  8. Nama tokoh pada gambar di samping ini adalah ....
    - a. Pattimura
    - b. Si Singamangaraja
    - c. Pangeran Antasari
    - d. Sultan Iskandar Muda
- 
9. Buku karya Multatuli yang isinya mengungkapkan kekejaman pemerintah kolonial Belanda berjudul ....
    - a. Penderitaan rakyat
    - b. Max Havelaar
    - c. Suiker Contracten
    - d. Kekejaman Belanda
  
  10. Provinsi yang termasuk waktu Indonesia bagian timur adalah ....
    - a. Sumatera dan Jawa Timur
    - b. Kalimantan Barat dan Sulawesi Utara
    - c. Maluku dan Papua (Irian Jaya)
    - d. Jawa Timur dan Bali
  
  11. Indonesia beriklim tropis karena ....
    - a. terdiri dari pulau-pulau
    - b. banyak memiliki gunung
    - c. wilayahnya dikelilingi laut
    - d. terletak di garis khatulistiwa
  
  12. Peranan Sumpah Pemuda bagi perjuangan bangsa Indonesia adalah ....
    - a. memperkuat terbentuknya organisasi politik
    - b. mempertebal rasa persatuan dan kesatuan
    - c. mendorong berdirinya organisasi kedaerahan
    - d. membangkitkan semangat rakyat melawan penjajah

13. Titik tolak kebangkitan nasional Indonesia ditandai dengan ....
  - a. banyaknya kaum terpelajar
  - b. ikrar Sumpah Pemuda
  - c. berdirinya organisasi Budi Utomo
  - d. sikap Belanda yang semakin longgar
14. Organisasi pada masa pergerakan nasional yang menuntut Indonesia berparlemen adalah ....
  - a. Partai Nasional Indonesia (PNI)
  - b. Gabungan Politik Indonesia (Gapi)
  - c. Gerakan Rakyat Indonesia (Gerindo)
  - d. Partai Islam Indonesia (PII)
15. Manfaat jumlah penduduk yang besar bagi suatu negara adalah ....
  - a. mudah menyatukan pendapat
  - b. kuat untuk mempertahankan diri
  - c. mempunyai cukup banyak tokoh yang baik
  - d. tersedia sumber daya manusia
16. Usaha untuk mengendalikan pertumbuhan penduduk Indonesia antara lain dilakukan dengan ....
  - a. peningkatan usia perkawinan
  - b. pembatasan perkawinan
  - c. pelaksanaan keluarga berencana
  - d. pembatasan tunjangan pensiun
17. Manfaat migrasi bagi pembangunan Indonesia yaitu ....
  - a. memperoleh tambahan tenaga pembangunan
  - b. meningkatkan taraf hidup masyarakat
  - c. meningkatkan pemerataan tenaga kerja
  - d. menjaga persatuan dan kesatuan bangsa
18. Salah satu faktor penarik perpindahan penduduk ke daerah perkotaan adalah ....
  - a. penghasilan desa menurun
  - b. penduduk desa berkurang
  - c. pembangunan desa terhambat
  - d. pusat kegiatan industri
19. Salah satu faktor penyebab kedatangan tentara Jepang ke Indonesia adalah ....
  - a. Jepang ingin bekerja sama dengan Belanda
  - b. Belanda menjajah Indonesia terlalu lama
  - c. Indonesia penghasil rempah-rempah
  - d. Indonesia kaya sumber alam
20. Perlawanan terhadap Jepang di Blitar dipimpin oleh ....
  - a. KH. Zainal Mustafa
  - b. KH. Mas Mansur
  - c. Supriyadi
  - d. Gatot Mangkupraja

21. Tujuan dibentuknya BPUPKI adalah ....
  - a. mempersiapkan kemerdekaan Indonesia
  - b. menepati janji Jepang untuk memberi kemerdekaan Indonesia
  - c. sebagai lembaga khusus buatan Jepang untuk kemerdekaan Indonesia
  - d. memberikan kesempatan pada Indonesia untuk merdeka
  
22. Jenis kapal terbang yang tepat digunakan untuk daerah terpencil adalah ....
  - a. kapal terbang capung
  - b. kapal terbang layang
  - c. kapal terbang amfibi
  - d. kapal terbang militer
  
23. Manfaat majalah bagi anak-anak yang gemar membaca adalah ....
  - a. menambah pengetahuan baru
  - b. dapat menjawab pertanyaan
  - c. mengisi waktu yang ada
  - d. agar cepat menjadi dewasa
  
24. Kekayaan alam yang dapat diperbaharui adalah ....
  - a. air, udara, dan minyak bumi
  - b. air, tanah, dan hutan
  - c. tanah, batubara, dan kayu
  - d. minyak bumi, tanah, dan hutan
  
25. Bung Karno menolak tuntutan para pemuda untuk mengumumkan Proklamasi Kemerdekaan tanggal 16 Agustus 1945 karena ....
  - a. Panitia Persiapan Kemerdekaan Indonesia belum mengadakan sidang
  - b. menunggu janji Jepang yang akan memberi kemerdekaan Indonesia
  - c. Bung Karno belum memperoleh kepastian mengenai kekalahan Jepang
  - d. kemerdekaan Indonesia sangat penting hingga harus diatur secermat mungkin
  
26. Tokoh yang terlibat dalam perumusan teks Proklamasi adalah ....
  - a. Ir. Soekarno, Chaerul Saleh, dan Sayuti Melik
  - b. Ir. Soekarno, Moh. Hatta, dan Ahmad Soebardjo
  - c. Moh. Hatta, Wikana, dan Ahmad Soebardjo
  - d. Sutan Syahrir, Ir. Soekarno, dan Moh. Hatta
  
27. Pertempuran Surabaya pada 10 November 1945 melawan tentara Sekutu dipimpin oleh ....
  - a. Bung Karno
  - b. Bung Hatta
  - c. Panglima Sudirman
  - d. Bung Tomo

28. Peristiwa yang terjadi pada tanggal 20 Agustus 1945 dalam mempertahankan kemerdekaan adalah ....
- Agresi Militer Belanda I
  - Agresi Militer Belanda II
  - pertempuran Ambarawa
  - pertempuran Lima Hari di Semarang
29. Salah satu tujuan dibentuknya Perserikatan Bangsa-Bangsa adalah ....
- menjamin ekspansi wilayah suatu bangsa
  - mengembangkan hubungan antarbangsa
  - menjunjung tinggi hak asasi negara sendiri
  - membentuk satu pusat kekuatan antarbangsa
30. Tokoh-tokoh pendiri PBB yaitu ....
- FD. Roosvelt dan Winston Churchill
  - FD. Roosvelt dan Trygve Lie
  - Winston Churchill dan U Thant
  - Winston Churchill dan Kurt Waldheim
31. UNESCO adalah organisasi PBB yang bertujuan untuk ....
- meningkatkan taraf hidup buruh pekerja
  - mengadakan kerjasama perdagangan
  - menyantuni anak-anak yang mengalami penderitaan
  - membina kerjasama internasional bidang pendidikan
32. Wilayah Indonesia sebelah selatan berbatasan dengan ....
- Selandia Baru
  - Australia
  - Jepang
  - Korea
33. Secara geografis wilayah Indonesia sangat penting bagi jalur perdagangan, sebab Indonesia terletak di ....
- kawasan Asia Tenggara
  - tengah-tengah lalu lintas antarnegara
  - sekitar garis khatulistiwa
  - antara benua Asia dan Eropa
34. Dasar untuk menentukan daerah waktu adalah ....
- garis lintang dan bujur
  - garis katulistiwa
  - letak garis lintang
  - letak garis bujur
35. Indonesia berada di antara dua samudera yaitu ....
- Samudera Pasifik dan Atlantik
  - Samudera Hindia dan Pasifik
  - Samudera Atlantik dan Hindia
  - Samudera Hindia dan Indonesia

36. Negara Myanmar pada peta di bawah ditunjukkan dengan angka ....

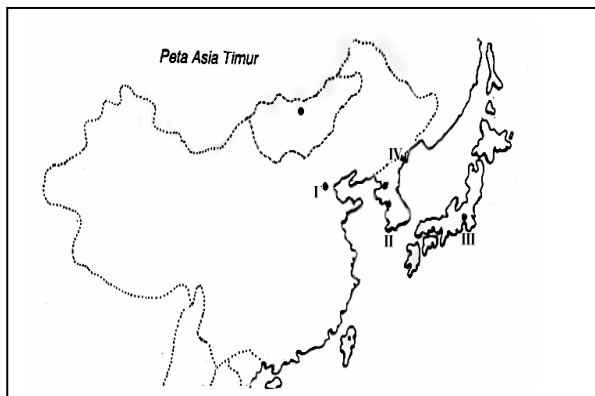


- a. I
- b. II
- c. III
- d. IV

37. Bentuk kerjasama ekonomi Indonesia dengan negara Arab Saudi yaitu berupa ....

- a. pengiriman tenaga kerja Indonesia ke Arab Saudi
- b. pengiriman calon haji ke Mekkah-Madinah
- c. pengiriman pelajar melanjutkan studi Agama Islam
- d. tukar menukar duta dan konsul

38. Perhatikan peta Asia Timur di samping!  
Letak negara Jepang ditunjukkan dengan angka romawi ....



- a. I
- b. II
- c. III
- d. IV

39. Negara-negara yang terletak di kawasan Asia Barat adalah ....

- a. Laos, Singapura, dan Kamboja
- b. Taiwan, Jepang, dan Hong Kong
- c. Pakistan, India, dan Nepal
- d. Kuwait, Iran, dan Arab Saudi

40. Salah satu isi Dasasila Bandung yang merupakan hasil Konferensi Asia Afrika adalah ....

- a. ikut campur tangan terhadap masalah negara lain
- b. menyelesaikan segala perselisihan secara damai
- c. menghormati hak-hak dasar manusia sesuai asas PBB
- d. memajukan kepentingan ekonomi negara masing-masing

41. Upaya yang dilakukan pemerintah untuk membebaskan Irian Barat adalah ....
  - a. membentuk Komando Mandala pembebasan Irian barat
  - b. mengevakuasi penduduk Irian Barat ke Maluku
  - c. meminta bantuan militer dari negara tetangga
  - d. menjadikan Irian Barat sebagai negara bagian
  
42. Gurun terluas di Afrika adalah ....
  - a. Gurun Kalahari
  - b. Gurun Libya
  - c. Gurun Gobi
  - d. Gurun Sahara
  
43. Benua Afrika sebelah utara berbatasan dengan ....
  - a. Lautan Atlantik
  - b. Lautan Hindia
  - c. Laut Merah
  - d. Laut Kaspia
  
44. Dua negara yang terletak di kawasan Eropa Barat adalah ....
  - a. Jerman dan Swiss
  - b. Denmark dan Swedia
  - c. Inggris dan Belanda
  - d. Belgia dan Rumania
  
45. Bentuk kerjasama Indonesia dengan Jerman dalam bidang ekonomi yaitu ....
  - a. kerjasama penambangan minyak dengan Shell
  - b. pembelian suku cadang kapal terbang jenis boing
  - c. kerjasama pertelevisian dan satelit
  - d. sebagai tempat lelang tembakau Indonesia
  
46. Benua Eropa di sebelah selatan berbatasan dengan ....
  - a. Laut Es Utara
  - b. Benua Asia
  - c. Lautan Atlantik
  - d. Laut Tengah
  
47. Sungai yang terletak di negara Jerman adalah ....
  - a. Sungai Rhein
  - b. Sungai Thames
  - c. Sungai Elbe
  - d. Sungai Nil
  
48. Penduduk asli Amerika adalah ....
  - a. Bangsa Negro dan Indian
  - b. Bangsa Maori dan Semit
  - c. Bangsa Alpino dan Indian
  - d. Bangsa Aborigin dan Negro

49. Ciri kenampakan alam dari Amerika Utara adalah ....
- berupa pegunungan dan dataran tinggi
  - merupakan lembah sungai dan dataran rendah
  - sebagian padang pasir dan daerah tandus
  - merupakan aliran sungai dan gurun pasir
50. Sungai Amazone terdapat di negara ....
- Paraguay
  - Uruguay
  - Brasilia
  - Bolivia